

KARTA PRACY


Powtórzenie wiadomości z działu: Rowerzysta na drodze.

1 Ilu rowerzystów może jechać w zorganizowanej kolumnie rowerów?

- A. Nie więcej niż 10.
- B. Nie więcej niż 15.
- C. Dowolna liczba, pod warunkiem że długość kolumny rowerów nie przekracza 50 m.

2 Rowerzysta w sytuacji pokazanej na rysunku musi

- A. zatrzymać się przed pionowym znakiem, ponieważ ten znak go do tego zobowiązuje.
- B. zachować szczególną ostrożność, ponieważ opuszcza strefę zamieszkania i włącza się do ruchu.
- C. ustąpić pierwszeństwa pojazdowi będącemu po jego prawej stronie, ponieważ wjeżdża na skrzyżowanie.



3 Kiedy rowerzysta zbliżający się do skrzyżowania widzi policjanta kierującego ruchem, z podniesioną do góry prawą ręką (jak na rysunku)

- A. może wjechać na skrzyżowanie.
- B. będzie mógł jechać dalej po zmianie postawy kierującego ruchem drogowym, do czego rowerzysta powinien się przygotować.
- C. może bezpiecznie skręcić w prawo.



4 Kierujący rowerem może jechać po chodniku:

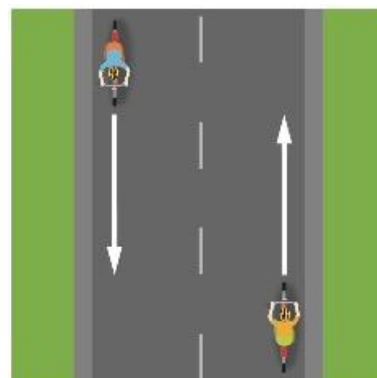
- A. podczas bardzo złych warunków atmosferycznych (np. gdy pada silny deszcz).
- B. samodzielnie, kiedy skończy 8 lat.
- C. jeżeli chodnik ma szerokość co najmniej 1,5 m.

5 Do obowiązkowego wyposażenia roweru należy

- A. światło mijania barwy białej z przodu roweru.
- B. lusterko z lewej strony kierownicy.
- C. co najmniej jedno czerwone światło odblaskowe.

6 Podczas wymijania kierujący rowerem jest obowiązany

- A. zachować bezpieczny odstęp od wymijanego uczestnika ruchu, jednak nie mniejszy niż 1 m, jeżeli tym uczestnikiem jest pojazd jednośladowy albo kolumna pieszych.
- B. w razie potrzeby zmniejszyć prędkość.
- C. zachować szczególną ostrożność.




7 Zabrania się zawracania rowerem

- A. na drodze jednokierunkowej.
- B. na skrzyżowaniach.
- C. na drodze dla rowerów i pieszych.

8 W sytuacji pokazanej na rysunku rowerzyści

- A. mogą jechać obok siebie, ponieważ nie utrudniają jazdy innym uczestnikom ruchu drogowego i nie stwarzają dla nich bezpośredniego zagrożenia.
- B. powinni jak najszybciej ustawić się jeden za drugim, ponieważ stwarzają zagrożenie dla innych uczestników ruchu.
- C. muszą jak najszybciej zjechać do prawej krawędzi jezdni.



9 Jak powinien się zachować rowerzysta, gdy nadjeżdża pojazd uprzywilejowany?

- A. Nie może zwiększać prędkości.
- B. Powinien natychmiast się zatrzymać.
- C. Ma obowiązek ułatwić przejazd pojazdowi uprzywilejowanemu, czyli usunąć się z jego drogi i jeśli trzeba, się zatrzymać.

10 Jeśli rowerzysta widzi ten znak, powinien

- A. natychmiast się zatrzymać.
- B. użyć dzwonka lub innego sygnału ostrzegawczego, żeby poinformować pieszych o tym, że się zbliża.
- C. zachować szczególną ostrożność, ponieważ zbliża się do przejścia dla pieszych.



11 Znak pionowy pokazany na rysunku jest znakiem

- A. zakazu i zabrania wjazdu na jezdnię od strony umieszczenia tego znaku.
- B. zakazu i oznacza całkowity zakaz ruchu wszystkich pojazdów po jezdni.
- C. informującym, że dana droga może być drogą jedno- lub dwukierunkową.



12 Po drodze oznaczonej tym znakiem

- A. mogą się poruszać tylko rowery jednośladowe.
- B. mogą się poruszać jedynie rowerzyści kierujący dowolnym rowerem.
- C. mogą się poruszać także wózki rowerowe, których szerokość nie przekracza 1 m.

