



## Kartkówka 6

## Grupa B

**1.** Po lewej stronie każdej liczby zapisz liczbę o 6 mniejszą, a po prawej – o 6 większą.

4 p.

45        76        64        87

**2.** Wykonaj obliczenia. Sprawdź dzielenie za pomocą mnożenia.

4 p.

$42 : 7 =$  


 $36 : 4 =$  


$24 : 3 =$  


 $30 : 5 =$  


**3.** Na olimpiadę zgłosiły się 72 dziewczynki i o 8 mniej chłopców. Ilu chłopców zgłosiło się na olimpiadę?


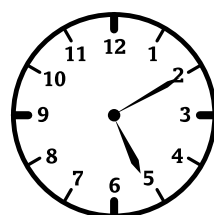


3 p.

Obliczenie: 


Odp. \_\_\_\_\_

**4.** Pod każdym zegarem wpisz odpowiednią godzinę.

4 p.



3 godziny  
wcześniej

30 minut  
później

kwadrans  
wcześniej

\_\_\_\_\_

Ogólna liczba punktów:

15 p.

Ocena nauczyciela: .....